

香港潮陽小學  
2023-2024 年度【數學智叻星】問答比賽  
四年級《第3期》

姓名：\_\_\_\_\_ ( ) 班別：P.4\_\_\_\_ 日期：\_\_\_\_\_

1. 哥哥有糖 21 粒，妹妹有糖 15 粒。

哥哥把幾粒糖給妹妹後，


妹妹有的糖是哥哥的 3 倍。


請問哥哥給妹妹糖多少粒？


答案：

1. \_\_\_\_\_粒

2. 以下是三座瞭望台的位置，當中各有士兵監察不同方向：

在  的士兵監察東方、南方、西方或北方四個方向；

在  的士兵監察東北方、東南方、西南方或西北方四個方向；

在  會監察八個主要方向。

你是一名特工，你要站在哪個方格內，才不會被士兵發現呢？在適當的格內填上「○」表示你的位置。

